

OBR. 92

Příklad 63

Nosník šikmý s jedním převislým koncem, zatížený třemi osamělými břemeny podle obr. 92; $P_1 = 1 \text{ kN}$, $P_2 = P_3 = 2 \text{ kN}$, $\alpha = 30^\circ$.

$$\begin{aligned} P'_1 &= P_1 \cos 30^\circ = 1 \cdot 0,866 = 0,866 \text{ kN} \\ P''_1 &= P_1 \sin 30^\circ = 1 \cdot 0,5 = 0,5 \text{ kN} \\ P'_2 &= P'_3 = P_2 \cos 30^\circ = 2 \cdot 0,866 = 1,732 \text{ kN} \\ P''_2 &= P''_3 = P_2 \sin 30^\circ = 2 \cdot 0,5 = 1 \text{ kN} \end{aligned}$$

$$a) -A' \cdot 6 + P'_1 \cdot 8 + P'_2 \cdot 4 + P'_3 \cdot 2 = 0$$

$$A' = 2,89 \text{ kN}$$

$$+B' \cdot 6 + P'_1 \cdot 2 - P'_2 \cdot 2 - P'_3 \cdot 4 = 0$$

$$B' = 1,44 \text{ kN}$$

$$\begin{aligned} \text{Kontrola: } A' + B' - P'_1 - P'_2 - P'_3 &= \\ &= 2,89 + 1,44 - 0,866 - 1,732 - \\ &\quad - 1,732 = 0 \end{aligned}$$

$$A'' = A' \cdot \tan 30^\circ = 2,89 \cdot 0,577 = 1,67 \text{ kN}$$

$$B'' = B' \cdot \tan 30^\circ = 1,44 \cdot 0,577 = 0,83 \text{ kN}$$

$$\begin{aligned} \text{Kontrola: } A'' + B'' - P''_1 - P''_2 - P''_3 &= \\ &= 1,67 + 0,83 - 0,5 - 1 - 1 = 0 \end{aligned}$$

$$A = \frac{A''}{\sin 30^\circ} = \frac{1,67}{0,5} = 3,34 \text{ kN}$$

$$B = \frac{B''}{\sin 30^\circ} = \frac{0,83}{0,5} = 1,66 \text{ kN}$$

$$b) T_{ca} = -P'_1 = -0,866 \text{ kN}$$

$$T_{de} = T_{ad} - P'_2 = 2,024 - 1,732 = 0,292 \text{ kN}$$

$$T_{ad} = T_{ca} + A' = -0,866 + 2,89 = 2,024 \text{ kN}$$

$$T_{eb} = T_{de} - P'_3 = 0,292 - 1,732 = -1,44 \text{ kN} = -B'$$

c) Přechnodný průřez je pod břemenem P_3 v bodě e.

$$\begin{aligned} d) M_a = M_{\min} &= -P'_1 \cdot 2 = -0,866 \cdot 2 = -1,732 \text{ kNm} & M_d &= A' \cdot 2 - P'_1 \cdot 4 = 2,89 \cdot 2 - 0,866 \cdot 4 = \\ & & &= 2,316 \text{ kNm} \\ M_e = M_{\max} &= B' \cdot 2 = 1,44 \cdot 2 = 2,88 \text{ kNm} \end{aligned}$$

$$e) N_{ca} = P''_1 = 0,5 \text{ kN}, \quad N_{ad} = N_{ca} - A'' = 0,5 - 1,67 = -1,17 \text{ kN}$$

$$N_{de} = N_{ad} + P''_2 = -1,17 + 1 = -0,17 \text{ kN}, \quad N_{eb} = N_{de} - P''_3 = -0,17 + 1 = 0,83 \text{ kN} = B''$$

PŘÍKLAD 7.11

N , Q , M na šikmém prostém nosníku s levým převislým koncem a úhlem sklonu $\alpha = 30^\circ$ pro spojitě rovnoměrné svislé zatížení $g = 1,732 \text{ kNm}^{-1}$ rozložené podle obr. 7.30a.

Řešení

Spojitě rovnoměrné svislé zatížení g po půdorysném průmětu nosníku (obr. 7.30a) převedeme na spojitě rovnoměrné zatížení g' po střednici nosníku (obr. 7.30b) o intenzitě (7.23)

$$g' = g \cos \alpha = 1,732 \cdot \cos 30^\circ = 1,5 \text{ kNm}^{-1}.$$

Náhradní břemeno G' z celé délky nosníku má velikost

$$G' = G = 1,5 \cdot 8 = 1,732 \cdot 6,928 = 12 \text{ kN}.$$

Podporové reakce

$$\sum M_{ib} = 0 : -R_a \cdot 6 \cdot \cos 30^\circ + G' \cdot 4 \cos 30^\circ = 0,$$

$$\sum M_{ia} = 0 : B \cdot 6 \cdot \cos 30^\circ - G' \cdot 2 \cos 30^\circ = 0$$

a odtud

$$R_a = \frac{2}{3} G' = 8 \text{ kN}, \quad B = \frac{1}{3} G' = 4 \text{ kN}.$$

Rozklad reakcí R_a , B a intenzity spojitého zatížení g' do složek příčných R_a' , B' , q

$$R_a' = R_a \cos 30^\circ = 6,93 \text{ kN}, \quad B' = B \cos 30^\circ = 3,46 \text{ kN},$$

$$q = g' \cos 30^\circ = 1,30 \text{ kNm}^{-1}$$

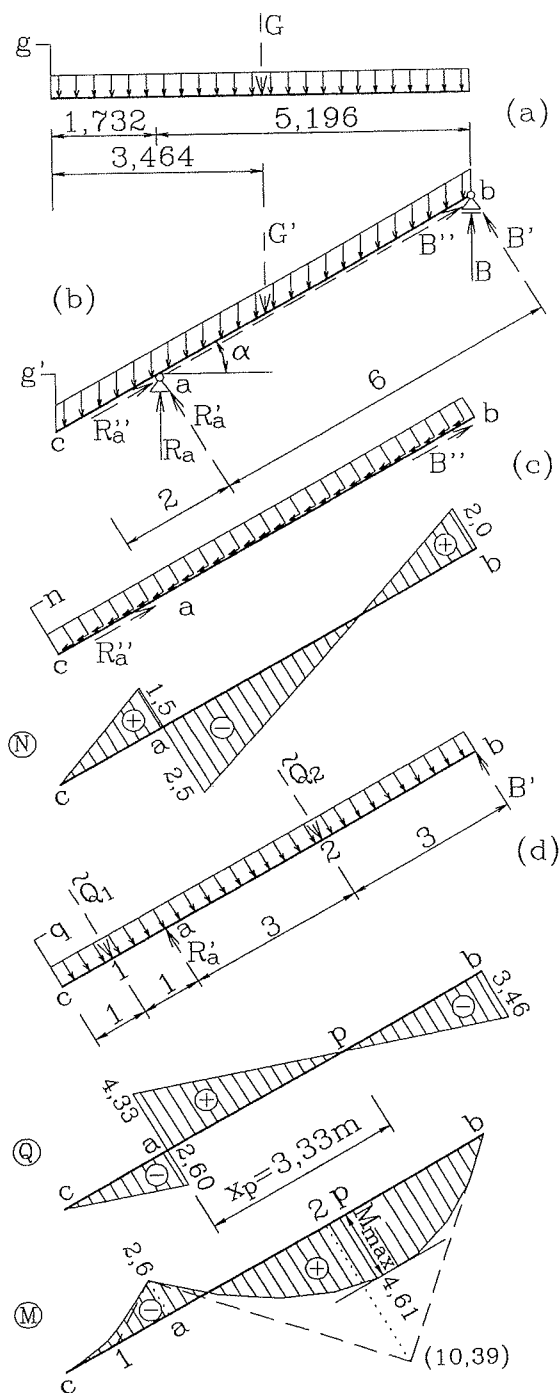
a do složek osových R_a'' , B'' , n na nosníku

$$R_a'' = R_a \sin 30^\circ = 4 \text{ kN}, \quad B'' = B \sin 30^\circ = 2 \text{ kN},$$

$$n = g' \sin 30^\circ = 0,75 \text{ kNm}^{-1}.$$

Spojitě rovnoměrné osově zatížení n s průběhem normálových sil N na nosníku je nakresleno na obr. 7.30c.

Průběhy posouvajících sil Q a ohybových momentů M na prostém šikmém nosníku, vyvolané spojitým rovnoměrným příčným zatížením q , jsou uvedeny na obr. 7.30d.



Obr. 7.30. Šikmý nosník s rovnoměrným zatížením

Príklad 110. Určte momentový obrazec a obrazec priečných a osových síl šikmého nosníka, ktorého horná podpera b je pevná, spodná je posuvná po vodorovnej rovine. Zataženie je zvislé. Spodná polovica nosníka je zatažená rovnomerným zatažením $q = 600 \text{ kp/m'}$ vodorovnej roviny a v strede hornej polovice nosníka je sústredené bremeno $P = 1,5 \text{ Mp}$. Nech $l = 4,0 \text{ m}$, $v = 3,0 \text{ m}$ (obr. 110).

Riešenie:

Keďže na nosník pôsobí iba zvislé zataženie a reakcia A musí ísť zvisle, aj reakcia B môže pôsobiť iba vo zvislom smere. Veľkosť reakcií:

$$A \cdot 4,0 - 600 \cdot 2,0 \cdot 3,0 - 1500 \cdot 1,0 = 0$$

$$A = \frac{3600 + 1500}{4,0} = \frac{5100}{4,0} = 1275 \text{ kp}$$

$$B = 600 \cdot 2,0 + 1500 - 1275 = 1425 \text{ kp}$$

Zvislé rovnomerné zataženie rozložíme do smeru osi nosníka (q') a do smeru kolmého na os (q''):

$$q' = q \sin \alpha \cos \alpha = 600 \cdot \frac{3}{5} \cdot \frac{4}{5} = 288 \text{ kp/m'}$$

$$q'' = q \cos^2 \alpha = 600 \cdot \left(\frac{4}{5}\right)^2 = 384 \text{ kp/m'}$$

Zložky sústredeného bremena P :

$$P' = P \sin \alpha = 1500 \cdot \frac{3}{5} = 900 \text{ kp}$$

$$P'' = P \cos \alpha = 1500 \cdot \frac{4}{5} = 1200 \text{ kp}$$

Reakcie tiež rozložíme na zložky:

$$A' = A \sin \alpha = 1275 \cdot \frac{3}{5} = 765 \text{ kp}$$

$$A'' = A \cos \alpha = 1275 \cdot \frac{4}{5} = 1020 \text{ kp}$$

$$B' = B \sin \alpha = 1425 \cdot \frac{3}{5} = 855 \text{ kp}$$

$$B'' = B \cos \alpha = 1425 \cdot \frac{4}{5} = 1140 \text{ kp}$$

Ohybové momenty:

$$\text{V priereze } c: M_c = B'' \cdot \frac{1}{\cos \alpha} = \frac{5}{4} \cdot 1140 = 1425 \text{ kpm} = M_{\max}$$

$$\text{V priereze } d: M_d = B'' \cdot 2,5 - P'' \cdot 1,25 = 1140 \cdot 2,5 - 1200 \cdot 1,25 = 1350 \text{ kpm}$$

Moment v strede rovnomerného zataženia:

$$M_e = A'' \cdot 1,25 - q'' \cdot \frac{1,25^2}{2} = 1020 \cdot 1,25 - 384 \cdot \frac{1,25^2}{2} = 975 \text{ kpm}$$

Maximálny ohybový moment je pod bremenom P , lebo tu priečna sila mení svoje znamienko.

Priečne sily:

$$T_a = A' = 1020 \text{ kp}$$

$$T_d = 1020 - 384 \cdot 2,5 = 60 \text{ kp} = T_{dc}$$

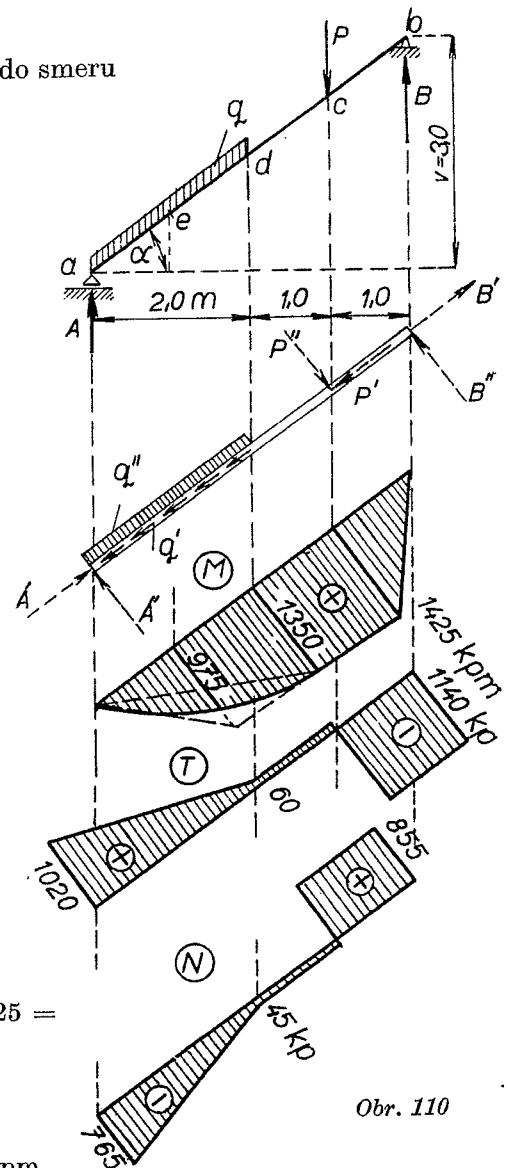
$$T_{bc} = -B' = -1140 \text{ kp}$$

Osové sily:

$$N_a = -A' = -765 \text{ kp}$$

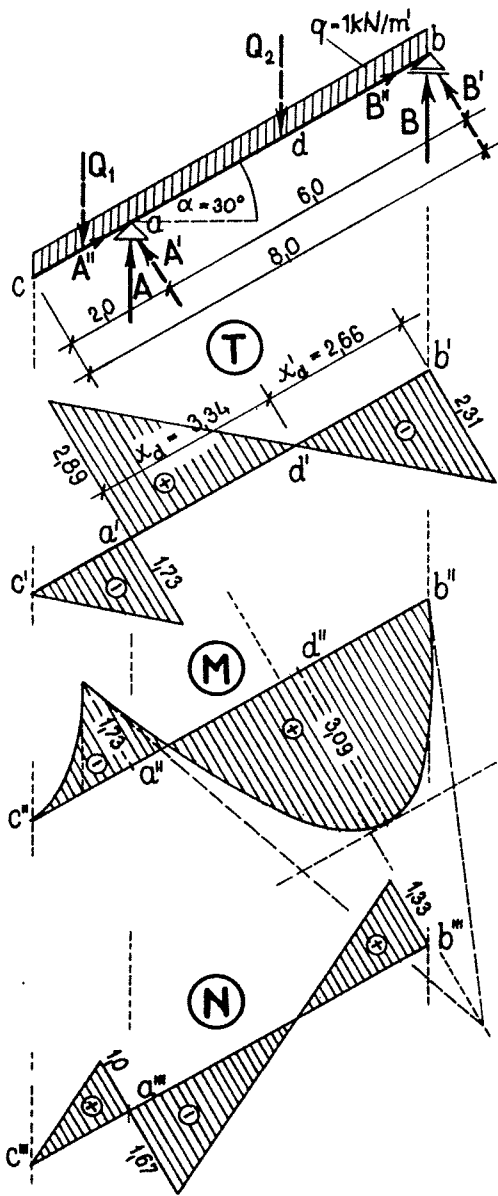
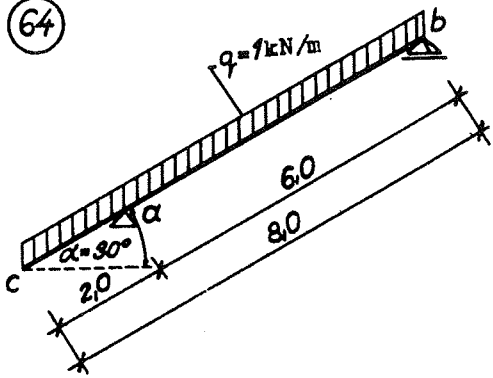
$$N_d = -A' + q' \cdot 2,5 = -765 + 288 \cdot 2,5 = -45 \text{ kp} = N_{dc}$$

$$N_b = B' = 855 \text{ kp} = N_{bc}$$

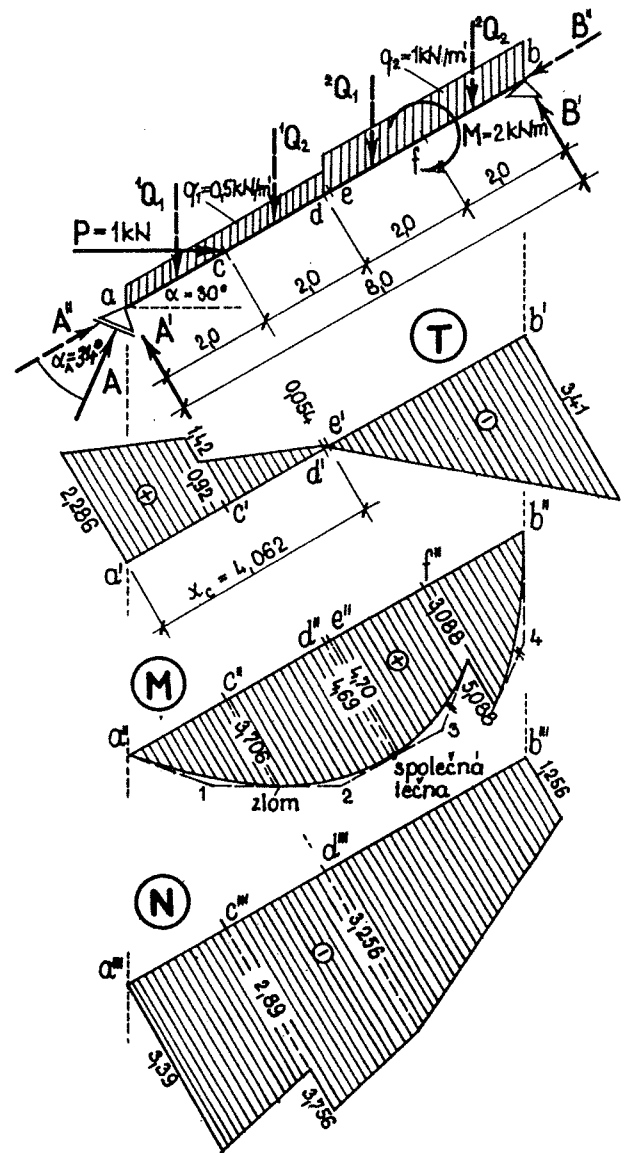
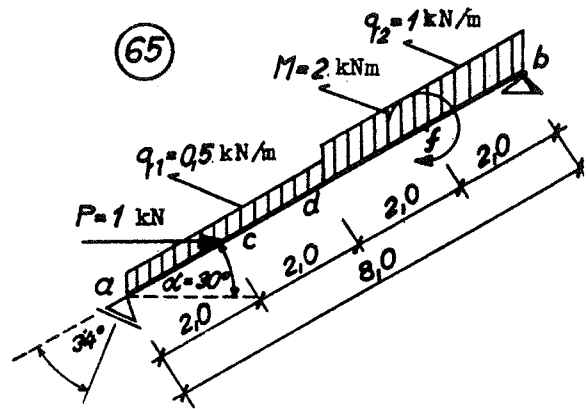


Obr. 110

64



65



Príklad 109. Šikmý nosník votknutý na pravom konci je zaťažný plným rovnomerným zaťažením $q = 400 \text{ kp/m'}$ vodorovnej roviny. Zistite obrazce M , T , N . Nech $l = 2,4 \text{ m}$, $v = 1,8 \text{ m}$ (obr. 109).

Riešenie:

Rozložme najprv zvislé zaťaženie q na zložku v smere osi nosníka (q') a na zložku kolmú na tento smer (q''):

$$q' = q \sin \alpha \cos \alpha$$

$$q'' = q \cos^2 \alpha$$

Z obrazca vidíme, že

$$\sin \alpha = \frac{1,8}{\sqrt{2,4^2 + 1,8^2}} = \frac{1,8}{3,0} = 0,60$$

$$\cos \alpha = \frac{2,4}{3,0} = 0,80$$

teda

$$q' = 400 \cdot 0,6 \cdot 0,8 = 192 \text{ kp/m'}$$

$$q'' = 400 \cdot 0,8^2 = 256 \text{ kp/m'}$$

Ohybový moment na voľnom konci nosníka je nulový, vo votknutí a je maximálny:

$$M_a = -q'' \frac{z^2}{2} = -\frac{1}{2} q'' z^2 = -\frac{1}{2} 256 \cdot 3,0^2 = -1152 \text{ kpm}$$

Moment sa mení podľa paraboly druhého stupňa, ktorej os je kolmá na os nosníka.

Veľkosť ohybového momentu vo votknutí dostaneme aj z rovnice

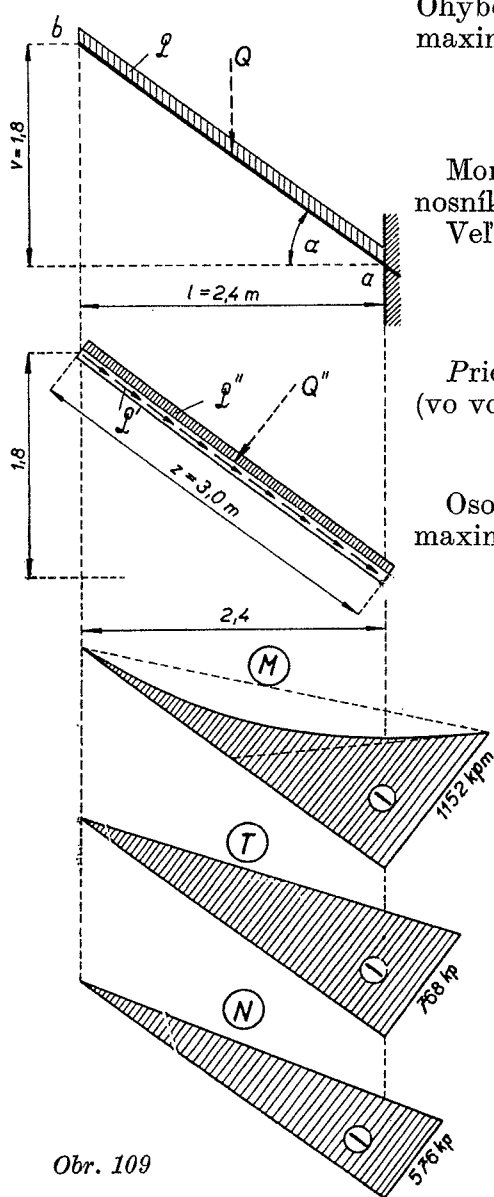
$$M_a = -Q \frac{l}{2} = -400 \cdot 2,4^2 \cdot \frac{1}{2} = -200 \cdot 5,76 = -1152 \text{ kpm}$$

Priečna sila sa mení od nuly (na voľnom konci nosníka) až po maximum (vo votknutí) podľa priamky a má zápornú hodnotu:

$$T_b = 0; \quad T_{\max} = T_a = -q'' \cdot 3,0 = -256 \cdot 3,0 = -768 \text{ kp}$$

Osová sila sa tiež mení lineárne; na voľnom konci je nulová a vo votknutí maximálna so záporným znamienkom, lebo spôsobuje tlak

$$N_b = 0; \quad N_{\max} = N_a = -q' \cdot 3,0 = -192 \cdot 3,0 = -576 \text{ kp}$$



Obr. 109

Príklad 132. Určte veľkosť reakcií, momentový obrazec a obrazec priečných a osových síl lomeného nosníka naznačeného na obr. 132. Nech pravá podpera b je posúvateľná po vodorovnej rovine.

Riešenie:

Keďže pravá reakcia musí ísť zvisle, teda nemá vodorovnú zložku, ani ľavá reakcia A nemôže mať vodorovnú zložku a musí ísť zvisle, teda

$$A_H = 0$$

$$A_V \cdot 6,0 - 900 \cdot 3,0 \cdot \frac{3,0}{2} = 0$$

$$A_V = \frac{8100}{2 \cdot 6,0} = 675 \text{ kp}$$

$$B \cdot 6,0 - 900 \cdot 3,0 \cdot 4,5 = 0$$

$$B = \frac{12150}{6,0} = 2025 \text{ kp}$$

Ohybové momenty:

$$M_a = M_b = 0$$

$$M_c = A_V \cdot 3,0 = 675 \cdot 3,0 = 2025 \text{ kpm}$$

Maximálny ohybový moment na vodorovnej hrade bude v prechodovom priereze x , ktorého polohu zistíme z rovnice

$$B - qx' = 0$$

$$x' = \frac{B}{q} = \frac{2025}{900} = 2,25 \text{ m}$$

Maximálny ohybový moment bude mať hodnotu

$$M_{\max} = M_x = Bx' - qx' \frac{x'}{2} = 2025 \cdot 2,25 - 900 \frac{2,25^2}{2} = 2278 \text{ kpm}$$

Bod parabolického oblúka v strede d vodorovného trámu cb dostaneme nanesením hodnoty

$$\frac{1}{8} q \cdot 3,0^2 = \frac{1}{8} 900 \cdot 9,0 = 1012,5 \text{ kpm}$$

od tetivy momentovej paraboly, teda celková hodnota momentu v priereze d je:

$$M_d = \frac{M_c}{2} + 1012,5 = \frac{2025}{2} + 1012,5 = 2025 \text{ kpm}$$

Rovnako, ak ideme sprava, je:

$$M_d = B \cdot 1,5 - q \cdot 1,5^2 \cdot \frac{1}{2} = 2025 \cdot 1,5 - 900 \cdot 2,25 \cdot 0,5 = 3037,5 - 1012,5 = 2025 \text{ kpm}$$

Hoci tvar nosníka a zaťaženie je rovnaké ako v príklade 168, predsa hodnota M_{\max} je oveľa väčšia než v príklade 168 (viac než dvojnásobná).

Priečne sily:

Vyskytujú sa aj v šikmej nohe ($ac = \sqrt{3,0^2 + 2,5^2} = 3,90 \text{ m}$):

$$T_{a-c} = A_V \cos \alpha = 675 \frac{3,0}{3,90} = 520 \text{ kp}$$

V bode c vodorovnej hrady

$$T_c = A_V = 675 \text{ kp}$$

V bode b

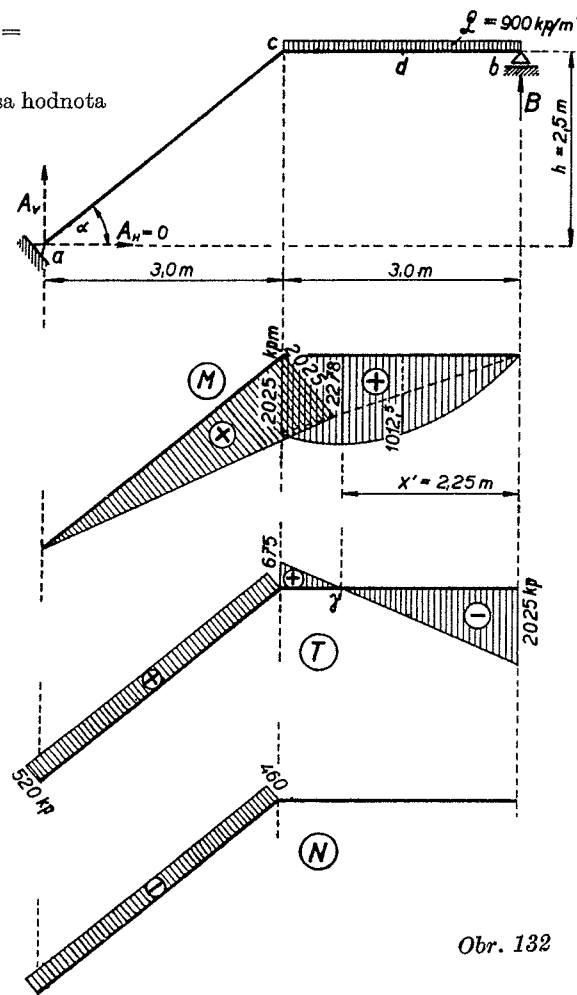
$$T_b = -B = -2025 \text{ kp}$$

Osové sily:

V šikmej nohe

$$N_{a-c} = -A_V \sin \alpha = -675 \frac{2,5}{3,9} = -460 \text{ kp}$$

Vo vodorovnej hrade bc niet osových síl.



Obr. 132

PŘÍKLAD 7.14

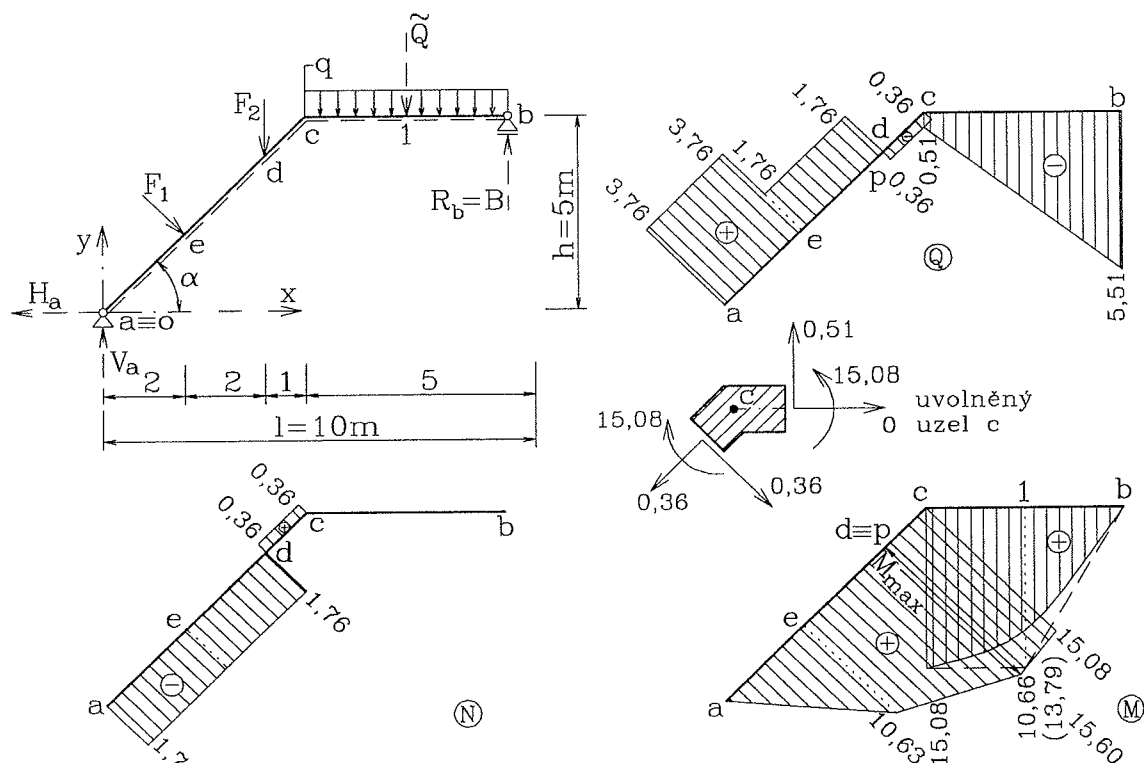
N, Q, M na prostém lomeném nosníku se šikmým prutem o sklonu $\alpha = 45^\circ$ (obr. 7.36) pro zatížení $F_1 = 2 \text{ kN}$, $F_2 = 3 \text{ kN}$, $q = 1 \text{ kNm}^{-1}$.

Řešení

Složky reakcí vnějších vazeb H_a, V_a, B z podmínek rovnováhy (7.2)

$$H_a = 1,41 \text{ kN} (\leftarrow), V_a = 3,90 \text{ kN} (\uparrow), B = 5,51 \text{ kN} (\uparrow).$$

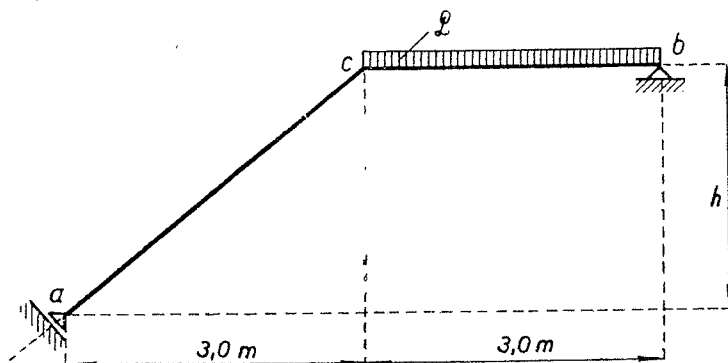
Průběhy složek vnitřních sil N, Q, M na lomeném nosníku s uvolněným uzlem c jsou nakresleny na obr. 7.36.



Obr. 7.36. Prostý lomený nosník se šikmým prutem

Příklad 168. Určete velikost reakcí, momentový obrazec a obrazec příčných a osových sil naznačeného lomeného nosníka. Vodorovná hrada je zatížena plným rovnoměrným zatížením $q = 900 \text{ kp/m'}$, $l = 6,0 \text{ m}$, $h = 2,50 \text{ m}$. Podperový bod a je posuvný po přímce kolmé na směr prutu ac (obr. 168).

[Reakcie $A_H = 1\,620 \text{ kp}$, $A_V = 1\,350 \text{ kp}$, $B_H = A_H$, $B_V = 1\,350 \text{ kp}$. Ohybové momenty $M_{\max} = M_d = 1\,012,5 \text{ kpm}$, $M_a = M_c = M_b = 0$. Příčné síly $T_{a-c} = 0$, $T_c = 1\,350 \text{ kp}$, $T_d = 0$, $T_b = -1\,350 \text{ kp}$. Osově síly $N_{a-c} = -A = -2\,110 \text{ kp}$, $N_{b-c} = -1\,620 \text{ kp}$.]



Obr. 168

Príklad 133. Určte obrazec momentový, priečných a normálových síl lomeného nosníka o rozpätí $l = 5,0$ m, zaťaženého zľava plným rovnomerným zaťažením $q = 600$ kp/m'. Šikmé nohy lomeného nosníka sú navzájom kolmé.

Riešenie:

Ľavá reakcia A musí ísť zvislo, zistíme ju z rovnice

$$A \cdot 5,0 - 600 \cdot 4,0 \cdot 2,0 = 0$$

$$A = \frac{4800}{5,0} = 960 \text{ kp}$$

Zvislá zložka pravej reakcie:

$$B_V \cdot 5,0 - 600 \cdot 4,0 \cdot 2,0 = 0$$

$$B_V = 960 \text{ kp} = A$$

Vodorovnú zložku reakcie B vypočítame z rovnice:

$$B_H = Q_H$$

$$Q_H = Q \cdot \sin \alpha = q \cdot 4,0 \cdot \sin \alpha$$

$$B_H = q \cdot 4,0 \cdot \sin \alpha$$

$$B_H = 600 \cdot 4,0 \cdot \frac{2,4}{4,0} = 1440 \text{ kp}$$

Ohybové momenty:

V podperách sú momenty nulové

$$M_a = M_b = 0$$

V uzle c :

$$M_c = 960 \cdot 3,2 - 600 \cdot 4,0 \cdot 2,0 = -1728 \text{ kpm}$$

Maximálny kladný ohybový moment je vo vzdialenosti x od ľavej podpory a (tam, kde priečna sila je nulová):

$$A'' - q \cdot x = 0, \quad A \cos \alpha - qx = 0$$

$$960 \frac{3,2}{4,0} - 600 \cdot x = 0$$

$$x = \frac{960 \cdot 3,2}{4,0 \cdot 600} = 1,28 \text{ m}$$

$$+M_{\max} = 960 \cdot \frac{3,2}{4,0} \cdot 1,28 - 600 \cdot 1,28^2 \cdot \frac{1}{2} = 491,52 \text{ kpm}$$

Priečne sily:

V podperovom bode a je

$$T_a = A'' = A \cos \alpha = 960 \cdot \frac{3,2}{4,0} = 768 \text{ kp}$$

v uzle c je

$$T_c = A'' - q \cdot 4,0 = 768 - 600 \cdot 4,0 = -1632 \text{ kp}$$

Vo všetkých prierezoch pravej šikmej nohy je priečna sila konštantná a jej hodnota

$$T_{b-c} = B_H \cos \alpha - B_V \cos \beta = 1440 \frac{3,2}{4,0} - 960 \cdot \frac{1,8}{3,0} = 576 \text{ kp}$$

Normálové sily:

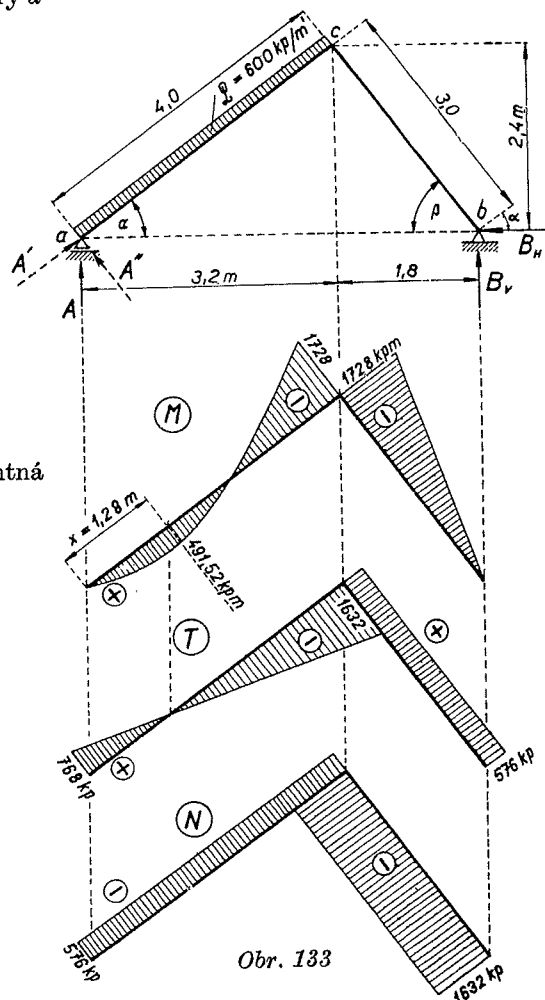
V oboch nohách sú tlakové sily. V ľavej nohe:

$$N_{a-c} = -A' = -A \sin \alpha = -960 \cdot \frac{2,4}{4,0} = -576 \text{ kp}$$

V pravej nohe je

$$N_{b-c} = -B_H \sin \alpha - B_V \sin \beta =$$

$$= -1440 \cdot \frac{2,4}{4,0} - 960 \cdot \frac{2,4}{3,0} = -1632 \text{ kp}$$



Obr. 133

Příklad 74

Lomený nosník o dvou přímých částech se svislou konzolou, zatížený na konci konzoly osamělým břemenem podle obr. 110; $P = 2 \text{ Mp}$.

$$\overline{ac} = \sqrt{3^2 + 2^2} = 3,6 \text{ m}$$

$$\cos \alpha = \frac{3}{3,6} = 0,833$$

$$\sin \alpha = \frac{2}{3,6} = 0,555$$

$$P' = P \cdot \sin \alpha = 2 \cdot 0,555 = 1,11 \text{ kN}$$

$$P'' = P \cdot \cos \alpha = 2 \cdot 0,833 = 1,666 \text{ kN}$$

$$a) + B \cdot 6 - P' \cdot 3 - P'' \cdot 4 = 0$$

$$B = \underline{1,667 \text{ kN}}$$

$$- A' - P' + B = 0, \quad A' = \underline{0,557 \text{ kN}}$$

$$- A'' + P'' = 0, \quad A'' = P'' = \underline{1,666 \text{ kN}}$$

$$b) T_{ac} = - A' \cos \alpha + A'' \sin \alpha =$$

$$= - 0,557 \cdot 0,833 + 1,666 \cdot 0,555 = \underline{0,46 \text{ kN}}$$

$$T_{dc} = P'' = \underline{1,666 \text{ kN}}$$

$$T_{bc} = - B \cos \alpha = - 1,667 \cdot 0,833 = \underline{- 1,389 \text{ kN}}$$

$$c) M_a = M_b = M_d = 0$$

$$M_{c1} = A'' \cdot 2 - A' \cdot 3 = \underline{1,661 \text{ kNm}}$$

$$\text{Kontrola: } M_{c1} = T_a \cdot 3,6 = 1,661 \text{ kNm}$$

$$M_{c2} = - P'' \cdot 2 = \underline{- 3,332 \text{ kNm}}$$

$$M_{c3} = B \cos \alpha \cdot 3,6 = B \cdot 3,0 = \underline{5,0 \text{ kNm}}$$

$$d) N_{ac} = A' \cdot \sin \alpha + A'' \cdot \cos \alpha =$$

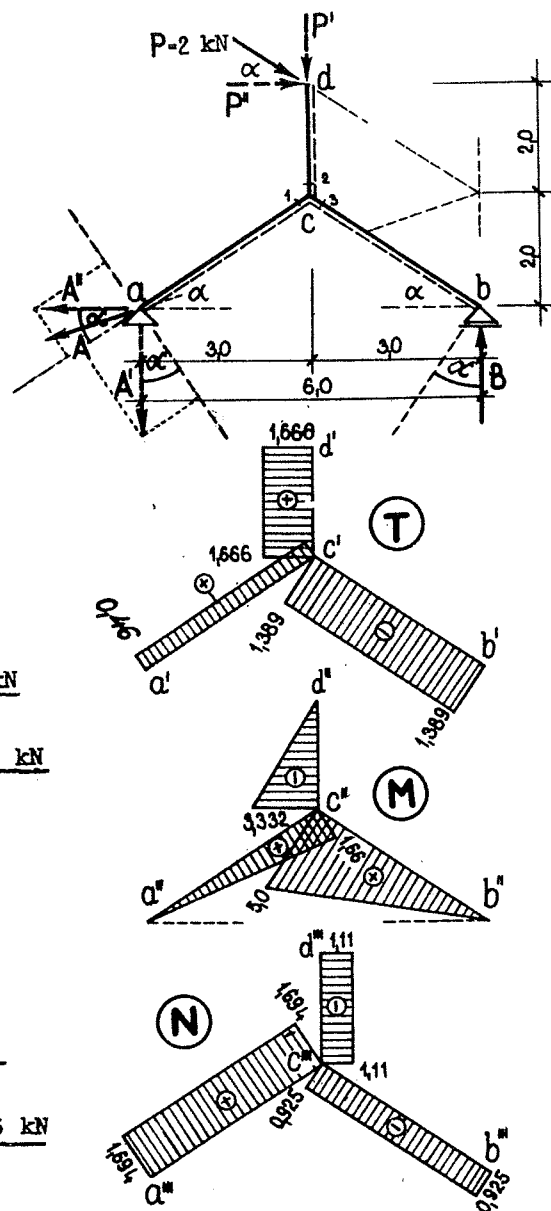
$$= 0,557 \cdot 0,555 + 1,666 \cdot 0,833 = \underline{1,694 \text{ kN}}$$

$$N_{dc} = - P' = \underline{- 1,11 \text{ kN}}$$

$$N_{bc} = - B \sin \alpha = - 1,667 \cdot 0,555 = \underline{- 0,925 \text{ kN}}$$

Kontrola:

$$- M_{c1} - M_{c2} + M_{c3} = - 1,661 - 3,332 + 5,0 = 0$$



OBR. 110

Příklad 125. Zistite momentový obrazec a obrazec priečných a osových síl lomeného nosníka naznačeného na obr. 125. Zvislá časť nosníka je zaťažená plným rovnomerným zaťažením, $q = 300 \text{ kp/m'}$.

Riešenie:

Výpočet reakcií:

$$B \cdot 4,0 - 300 \cdot 1,5 \cdot 3,75 = 0$$

$$B = \frac{300 \cdot 1,5 \cdot 3,75}{4,0} = 422 \text{ kp} = -A_V$$

$$A_H = 300 \cdot 1,5 = 450 \text{ kp} \leftarrow$$

Ohybové momenty:

$$M_a = M_b = M_d = 0$$

$$M_{c_1} = B \cdot 2,0 = 422 \cdot 2,0 = 844 \text{ kpm (sprava)}$$

$$M_{c_2} = A_H \cdot 3,0 - A_V \cdot 2,0 = 450 \cdot 3,0 - 422 \cdot 2,0 = 506 \text{ kpm (zľava)}$$

$$M_{c_3} = -300 \cdot 1,5 \cdot 0,75 = -337,5 \text{ kpm (zhora)}$$

Priečne sily:

Na konci nosníka (d)

$$T_d = 0$$

$$T_c = 300 \cdot 1,5 = 450 \text{ kp (zhora)}$$

V ľavej nohe \overline{ac} :

$$T_{a-c} = A_H \sin \alpha - A_V \cos \alpha = 450 \cdot \frac{3,0}{3,60} - 422 \cdot \frac{2,0}{3,60} = 140 \text{ kp}$$

V pravej nohe \overline{bc} :

$$T_{b-c} = -B \cos \alpha = -422 \cdot \frac{2,0}{3,60} = -235 \text{ kp}$$

Osové sily:

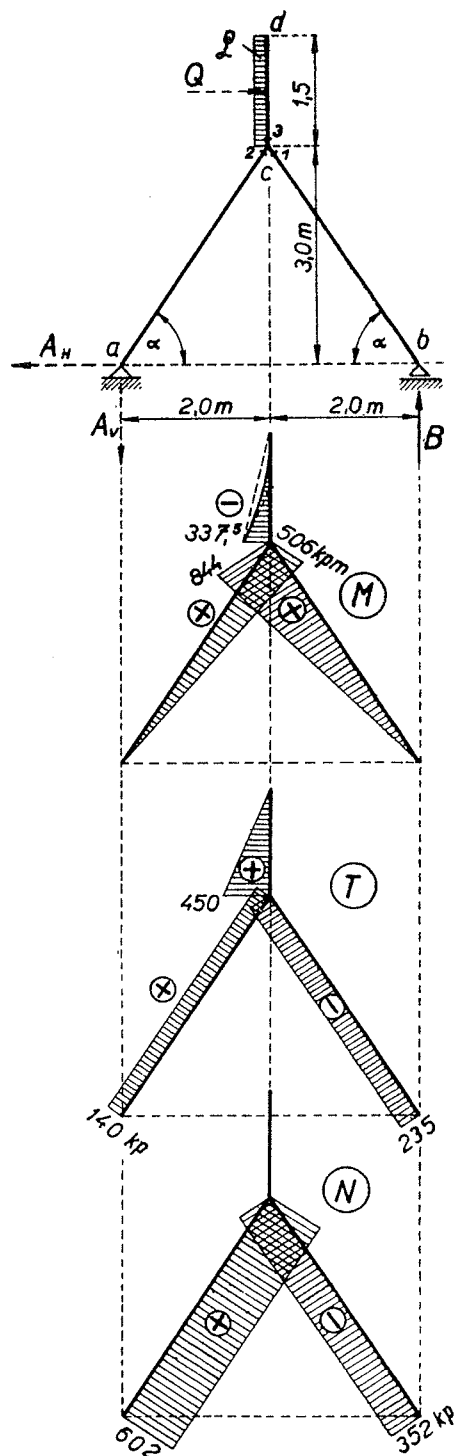
V ľavej nohe

$$N_{a-c} = A_H \cos \alpha + A_V \sin \alpha = 450 \cdot \frac{2,0}{3,60} + 422 \cdot \frac{3,0}{3,60} = 602 \text{ kp}$$

V pravej nohe

$$N_{b-c} = -B \sin \alpha = -422 \cdot \frac{3,0}{3,60} = -352 \text{ kp}$$

Vo zvislej časti \overline{cd} nie je osová sila.



Obr. 125

Príklad 134. Určte momentový obrazec a obrazec priečných a osových síl lomeného nosníka, zaťaženého plným rovnomerným vodorovným zaťažením pôsobiacim zľava. Nech $l = 5,0 \text{ m}$, $q = 300 \text{ kp/m'}$. Na bod b pôsobí sústredené bremeno $P = 400 \text{ kp}$, a to vodorovným smerom vľavo (obr. 134).

Riešenie:

Najprv vypočítame reakcie:

$$B \cdot 5,0 - 300 \cdot 5,0^2 \frac{1}{2} = 0$$

$$B = \frac{300 \cdot 5,0}{2} = 750 \text{ kp} = -A_V$$

Vodorovná zložka ľavej reakcie

$$A_H = 300 \cdot 5,0 - 400 = 1100 \text{ kp}$$

Ohybové momenty:

V podperách sú nulové momenty.
V uzle c

$$\begin{aligned} M_c &= 1100 \cdot 5,0 - 300 \cdot 5,0^2 \frac{1}{2} = \\ &= 1750 \text{ kpm} \end{aligned}$$

Maximálny ohybový moment v ľavej nohe ac bude v priereze x , kde priečna sila mení znamienko.

$$A_H - qx = 0$$

$$x = \frac{A_H}{q} = \frac{1100}{300} = 3,66 \text{ m}$$

$$\begin{aligned} +M_{\max} &= M_x = 1100 \cdot 3,66 - \\ &- 300 \cdot 3,66^2 \frac{1}{2} = 2015 \text{ kpm} \end{aligned}$$

Ohybový moment v uzle d

$$M_d = -400 \cdot 2,0 = -800 \text{ kpm}$$

Priečne sily:

V podpere a

$$T_a = A_H = 1100 \text{ kp}$$

V uzle c

$$T_c = A_H - q \cdot 5,0 = 1100 - 300 \cdot 5,0 = -400 \text{ kp}$$

V prierezoch pravej nohy

$$T_{b-d} = P = 400 \text{ kp}$$

V šikmej hrade

Sprava:

$$T_d = -B \cos \alpha + P \sin \alpha = -750 \frac{5,0}{5,83} + 400 \frac{3,0}{5,83} = -437 \text{ kp}$$

Zľava:

$$T_d = 400 \sin \alpha - A_V \cos \alpha = 400 \frac{3,0}{5,83} - 750 \frac{5,0}{5,83} = -437 \text{ kp} = T_{d-c}$$

Osové sily:

V ľavej nohe

$$N_{a-c} = +A_V = 750 \text{ kp}$$

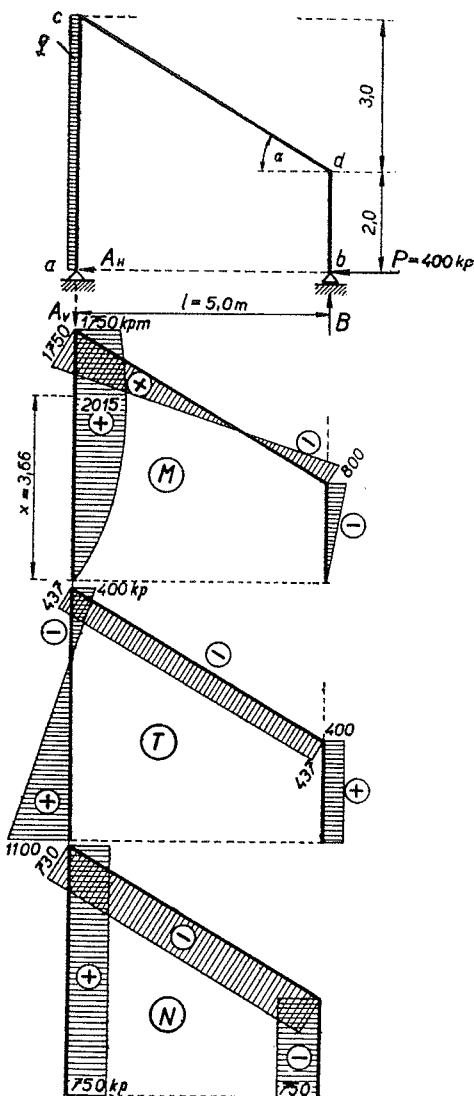
V pravej nohe

$$N_{b-d} = -B = -750 \text{ kp}$$

V šikmej hrade

$$N_d = -B \sin \alpha - P \cos \alpha = -750 \frac{3,0}{5,83} - 400 \frac{5,0}{5,83} = -730 \text{ kp}$$

$$N_c = -400 \cos \alpha - A_V \sin \alpha = -400 \frac{5,0}{5,83} - 750 \frac{3,0}{5,83} = -730 \text{ kp} = N_{c-d}$$



Obr. 134

Príklad 137. Určte momentový obrazec a obrazec priečných a osových síl lomeného nosníka. Nech $l = 8,0$ m, $q = 500$ kp/m'. Vypočítajte maximálny kladný a záporný ohybový moment (obr. 137).

Riešenie:

Výslednú silu Q , pôsobiacu v bode f kolmo na štebeľ \overline{de} , rozložíme na zložku zvislú a vodorovnú:

$$Q_V = Q \cos \alpha = 500 \cdot 5,0 \frac{4}{5} = 2\,000 \text{ kp}$$

$$Q_H = Q \sin \alpha = 500 \cdot 5,0 \frac{3}{5} = 1\,500 \text{ kp}$$

Určíme veľkosť reakcie B :

$$B \cdot 8,0 + Q_H \cdot 4,0 - Q_V \cdot 6,0 = 0$$

$$B = \frac{-1\,500 \cdot 4,0 + 2\,000 \cdot 6,0}{8,0} = 750 \text{ kp}$$

Zložky reakcie A :

$$A_H = Q_H = 1\,500 \text{ kp} \rightarrow$$

$$A_V = Q_V - B = 2\,000 - 750 = 1\,250 \text{ kp}$$

Ohybové momenty:

$$M_a = M_b = M_e = 0$$

$$M_c = -A_H \cdot 2,5 = -1\,500 \cdot 2,5 = -3\,750 \text{ kpm}$$

$$M_d = A_V \cdot 4,0 - A_H \cdot 5,5 = 1\,250 \cdot 4,0 - 1\,500 \cdot 5,5 = -3\,250 \text{ kpm}$$

Maximálny záporný moment je teda v uzle c .

Najväčší kladný moment bude v priereze x , ktorého polohu určíme z rovnice

$$B \cos \alpha - qx = 0$$

$$x = \frac{750 \cdot 4,0}{5,0 \cdot 500} = 1,20 \text{ m}$$

$$\begin{aligned} +M_{\max} = M_x &= B \cos \alpha \cdot x - qx \frac{x}{2} = \\ &= 750 \frac{4,0}{5,0} 1,20 - 500 \cdot 1,20^2 \frac{1}{2} = 360 \text{ kpm} \end{aligned}$$

Priečne sily:

V ľavej nohe

$$T_{a-c} = -A_H = -1\,500 \text{ kp}$$

V pravej nohe je priečna sila nulová.

$$T_{c-d} = A_V \cos \alpha - A_H \sin \alpha = 1\,250 \frac{4}{5} - 1\,500 \frac{3}{5} = 100 \text{ kp}$$

$$T_e = -B \cos \alpha = -750 \frac{4}{5} = -600 \text{ kp}$$

$$T_d = T_e + Q = -600 + 500 \cdot 5 = +1\,900 \text{ kp}$$

Osové sily:

V ľavej nohe je tlaková sila

$$N_{a-c} = -A_V = -1\,250 \text{ kp}$$

V pravej nohe je tiež tlaková sila

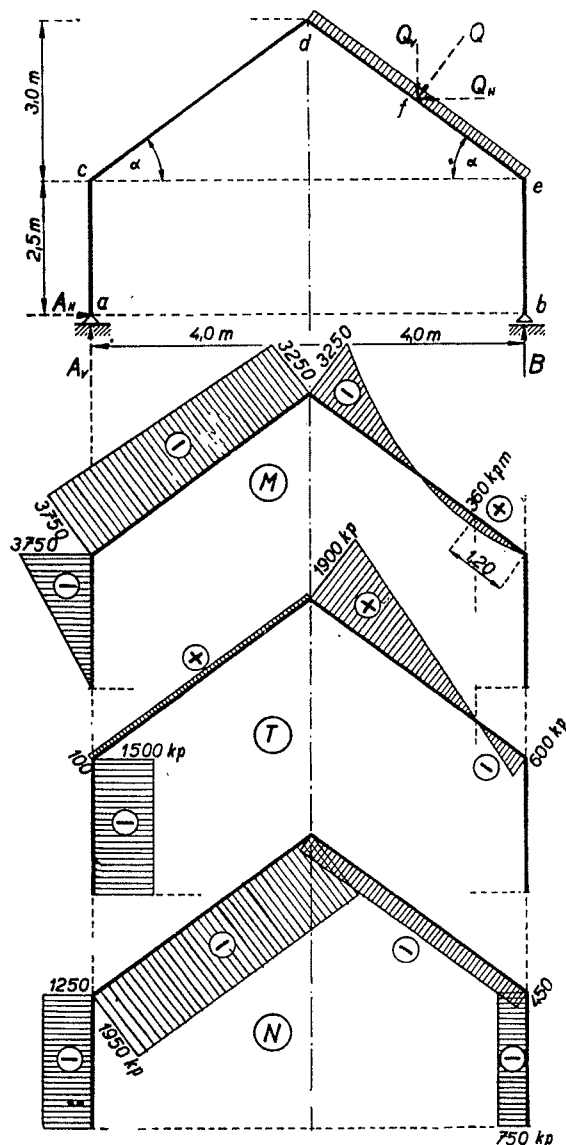
$$N_{b-e} = -B = -750 \text{ kp}$$

V ľavom štebli \overline{cd} :

$$\begin{aligned} N_{c-d} &= -A_V \sin \alpha - A_H \cos \alpha = -1\,250 \frac{3}{5} - 1\,500 \frac{4}{5} = \\ &= -750 - 1\,200 = -1\,950 \text{ kp} \end{aligned}$$

V pravom štebli \overline{de} :

$$N_{d-e} = -B \sin \alpha = -750 \frac{3}{5} = -450 \text{ kp}$$



Obr. 137

Příklad 76

Lomený nosník o třech přímých částech, podepřený na obou koncích a zatížený ve druhé vodorovné části osamělým břemenem, ve třetí části trojúhelníkově podle obr.112; $P = 2 \text{ kN}$, $q = 2 \text{ kN/m}$.

$$\overline{eb} = \sqrt{4^2 + 3^2} = 5 \text{ m}$$

$$Q = \frac{1}{2} q \cdot 5 = 5,0 \text{ kN}$$

$$\sin \alpha = \frac{3}{5} = 0,6;$$

$$\cos \alpha = \frac{4}{5} = 0,8$$

$$Q' = Q \cos \alpha = 4,0 \text{ kN}$$

$$Q'' = Q \sin \alpha = 3,0 \text{ kN}$$

$$a) -A' \cdot 7 + P \cdot 5,5 + Q' \cdot 1,333 + Q'' \cdot 1 = 0$$

$$A' = 2,76 \text{ kN}$$

$$+ B \cdot 7 - P \cdot 1,5 - Q' \cdot 5,667 + Q'' \cdot 1 = 0$$

$$B = 3,24 \text{ kN}$$

Kontrola:

$$A' + B - P - Q' = 2,76 + 3,24 - 2 - 4 = 0$$

$$A'' - Q'' = 0; A'' = Q'' = 3,0 \text{ kN}$$

$$b) T_{ab} = -A'' = -3,0 \text{ kN}$$

$$T_{cd} = A' = 2,76 \text{ kN}$$

$$T_{de} = T_{cd} - P = 0,76 \text{ kN}$$

$$T_{e2} = -B \cos \alpha + Q = 2,41 \text{ kN}$$

$$T_b = B \cos \alpha = 2,59 \text{ kN}$$

$$x_f = \sqrt{\frac{T_{e2} \cdot 5^2}{Q}} = 3,47 \text{ m}$$

$$c) M_a = M_b = 0$$

$$M_c = -A'' \cdot 3 = -9,0 \text{ kNm}$$

$$M_d = -A'' \cdot 3 + A' \cdot 1,5 = -4,86 \text{ kNm}$$

$$M_e = -A'' \cdot 3 + A' \cdot 3 - P \cdot 1,5 = -3,72 \text{ kNm}$$

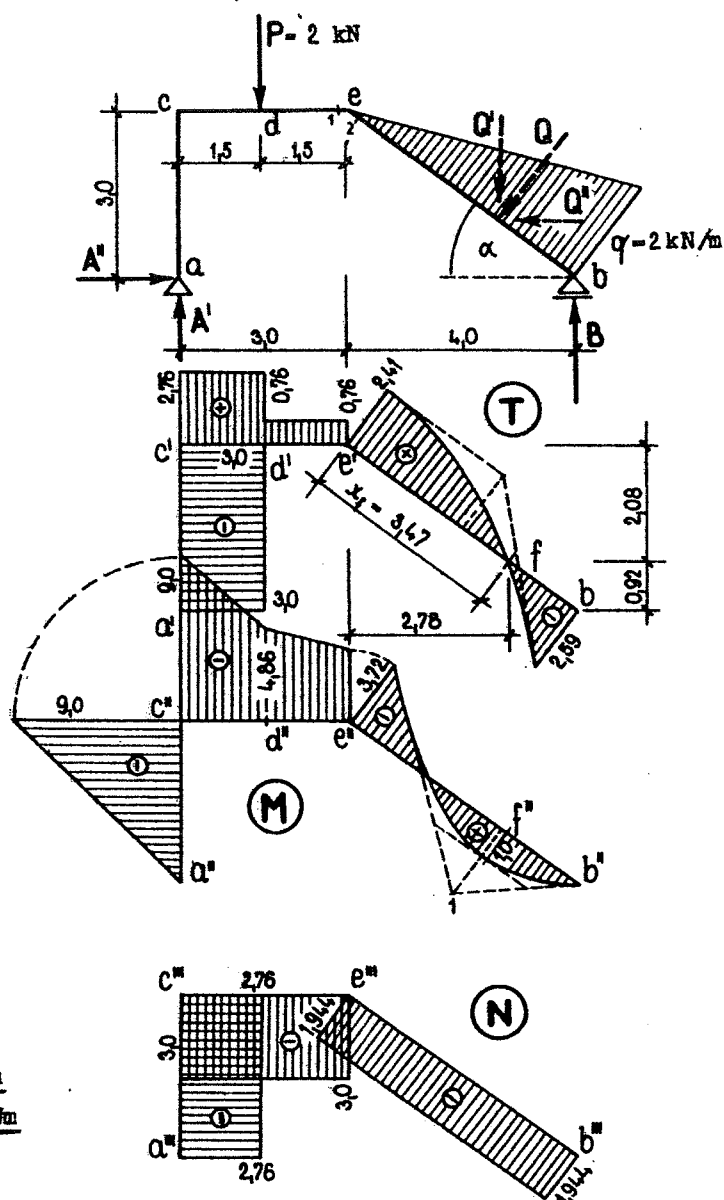
$$M_f = M_{\max} = A' \cdot 5,78 - A'' \cdot 0,92 - P \cdot 4,28 - Q_{ef} \cdot \frac{3,47}{3} = 1,8 \text{ kNm}$$

$$Q_{ef} = Q \cdot \frac{3,47^2}{5^2} = 2,41 \text{ kN} = T_{e2}$$

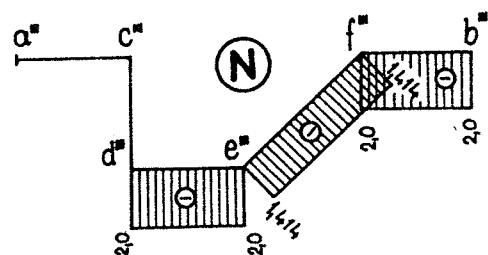
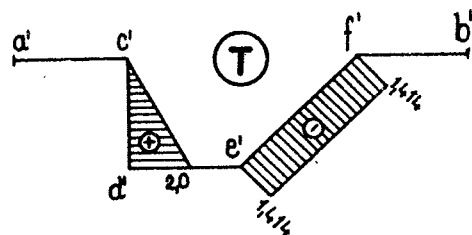
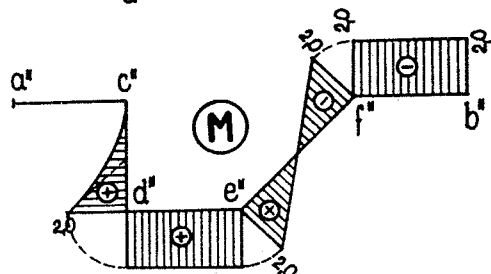
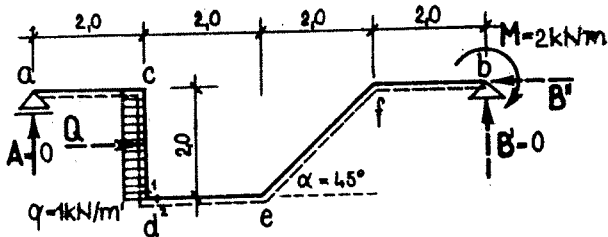
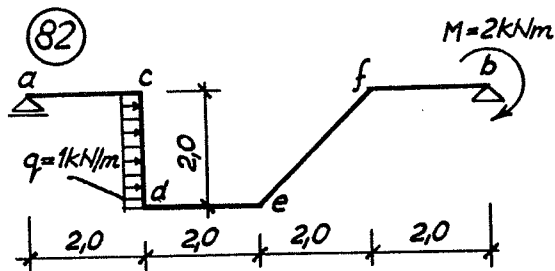
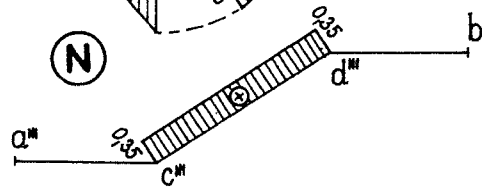
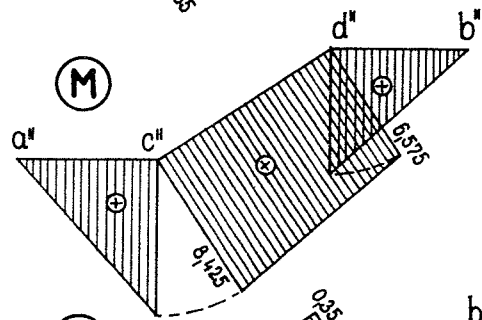
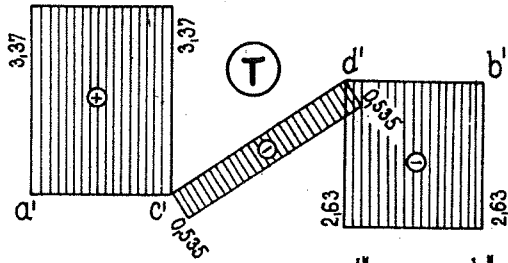
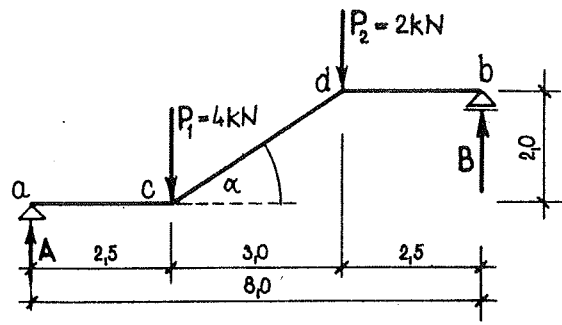
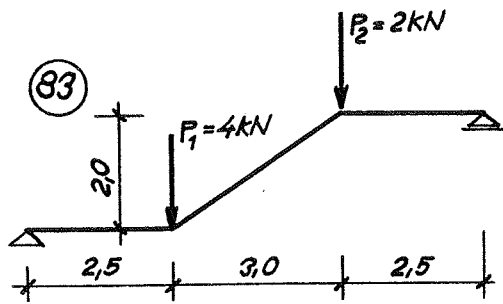
Výpočet pořadnice průsečíku 1 tečen $(M_1) = B \cdot \cos \alpha \cdot 1,667 = 4,31 \text{ kNm}$

$$d) N_{ac} = -A' = -2,76 \text{ kN}; N_{ce} = -A'' = -3,0 \text{ kN}$$

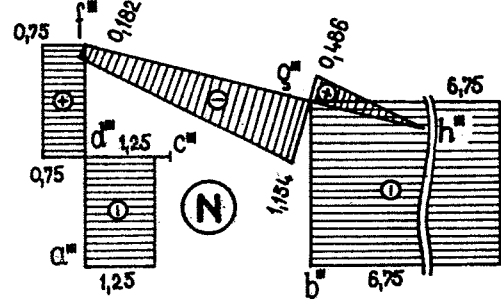
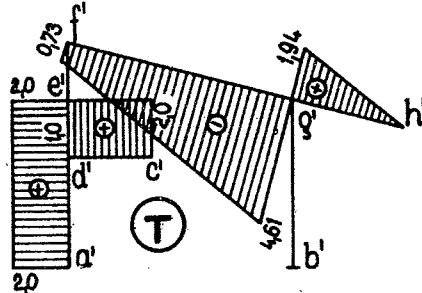
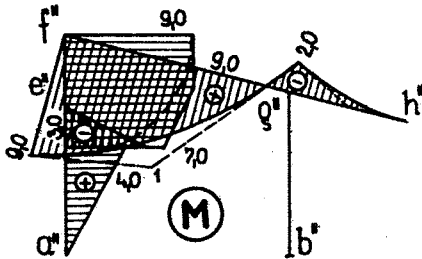
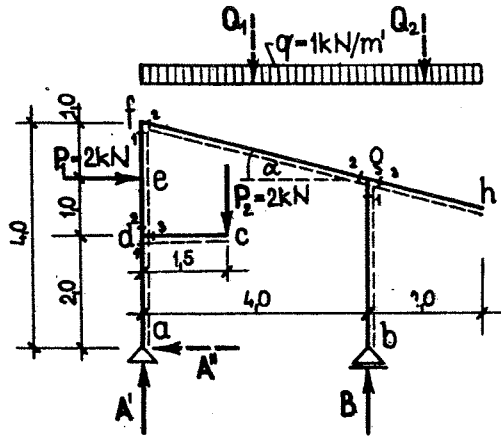
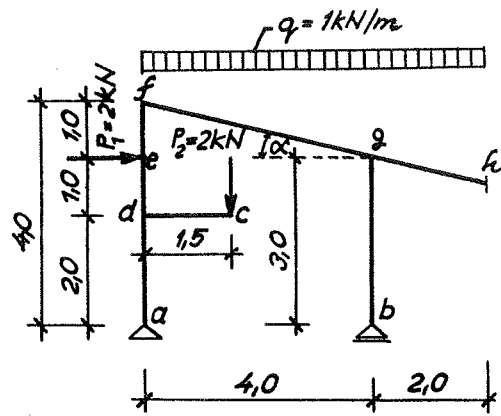
$$N_{eb} = -B \cdot \sin \alpha = -3,24 \cdot 0,6 = -1,944 \text{ kN}$$



OBR. 112



79



80

